



**Taller preparación pruebas por  
competencias Sociales:  
Segundo Trimestre Grado Cuarto**

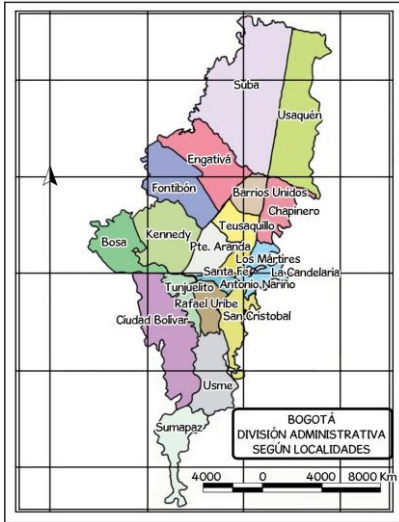
**Docente: Sonia Alba**

Con la siguiente información responde las preguntas 1 y 2:



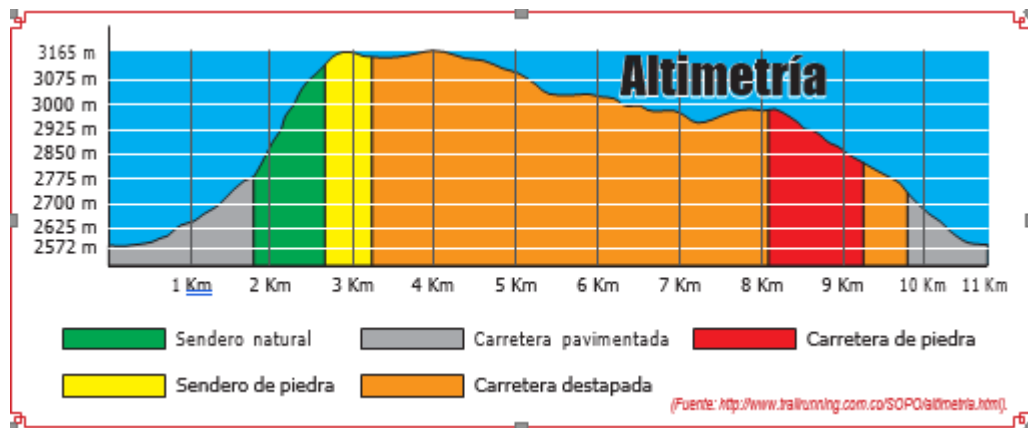
1. Las zonas urbanas se definen por la distribución del espacio y el tipo de actividades que se realizan en él. En la fotografía de la ciudad de Medellín se destacan
  - a. los servicios públicos que se prestan en la ciudad.
  - b. algunas redes de vías para el tránsito vehicular.
  - c. los centros comerciales más importantes.
  - d. algunos tipos de actividades comerciales.
  
2. En los espacios urbanos existen elementos naturales. Un elemento natural que se aprecia en la imagen hace referencia a:
  - a. las zonas comerciales
  - b. las industrias
  - c. los árboles
  - d. los edificios

Con la siguiente información responde las preguntas 3 y 4:



3. La división de una ciudad en sectores permite, en términos administrativos,
  - a. concentrar el poder político en la figura del alcalde.
  - b. delegar funciones a las entidades territoriales.
  - c. separar a las localidades para que hagan sus propias leyes.
  - d. promover la convivencia pacífica en la ciudad.
  
4. La imagen que se muestra corresponde a:
  - a. Un mapa de los territorios más poblados.
  - b. Las localidades más violentas de la ciudad
  - c. Un mapa político de la ciudad de Bogotá
  - d. Los pisos térmicos que tiene Bogotá.

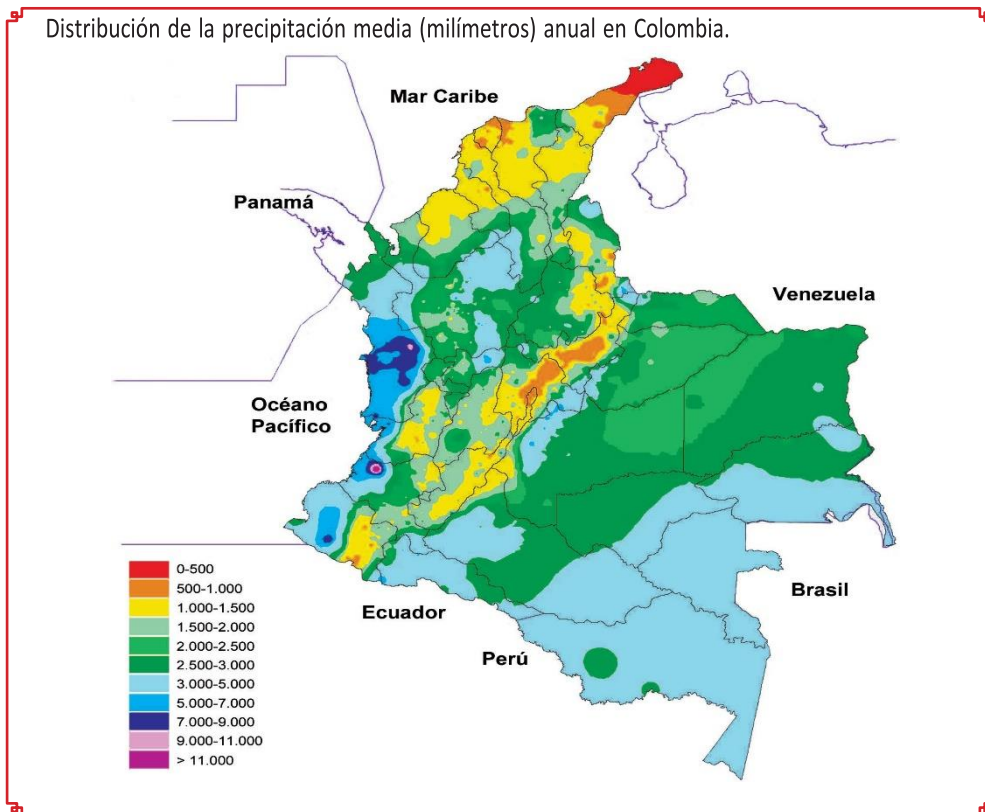
Con la siguiente información responde las preguntas 5 y 6:



5. Si una persona ascendiera a pie, de la carretera pavimentada a la cumbre del kilómetro 3; tendría
  - a. más capacidad para adaptarse al clima que hay por debajo de los 2625 m.
  - b. una sensación térmica alta, ya que a mayor altura aumenta la temperatura.
  - c. más dificultad al respirar, ya que hay menos oxígeno en la atmósfera.

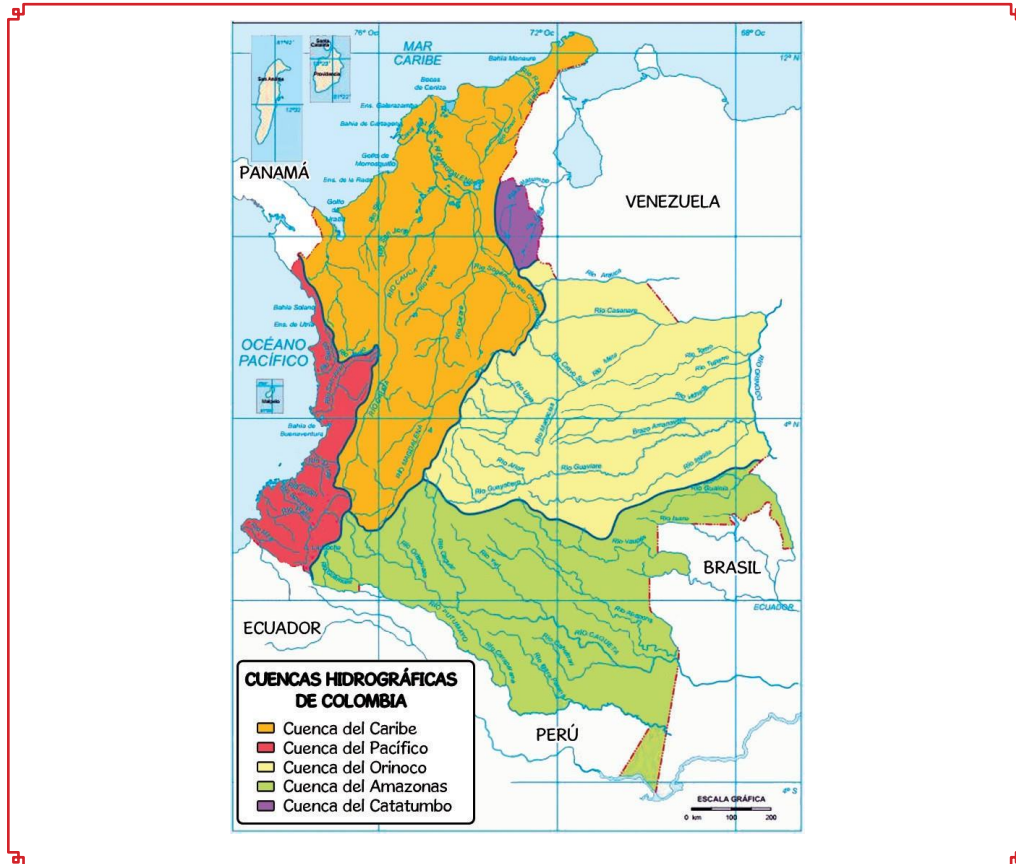
- d. una necesidad de protegerse, ya que los gases contaminantes se concentran a esa altura.
6. Según la imagen, se puede decir que el terreno del recorrido
- a. es una llanura extensa.
  - b. es irregular y montañoso.
  - c. Carece de pendientes
  - d. Tiene volcanes inactivos

Con la siguiente información responde las preguntas 7 y 8:



7. La zona donde se presentan mayores precipitaciones al año en Colombia es:
- a. Llanos orientales.
  - b. Amazonas.
  - c. Región Andina.
  - d. Región del Pacífico.
8. Al hacer una clasificación climática a partir de las precipitaciones anuales en la Guajira, se llegaría a la conclusión que
- a. hay presencia de nevados.
  - b. el clima es frío.
  - c. hay altas precipitaciones.
  - d. el clima es desértico.

Con la siguiente información responde las preguntas 9 y 10:



9. Siguiendo el mapa, la zonificación de las cuencas hidrográficas en Colombia se haría teniendo en cuenta:
- la división política de los departamentos y ciudades de Colombia.
  - el territorio a través del cual un conjunto de ríos transporta el agua.
  - las fronteras terrestres con otros países que están demarcadas por ríos.
  - la vegetación y las precipitaciones anuales que tiene cada territorio.
10. La cuenca hidrográfica que se encuentra en el extremo occidental del país, es la cuenca del
- Pacífico.
  - Amazonas
  - Catatumbo
  - Orinoco
11. Una de las zonas más importantes de producción de café comprende el territorio conocido como el Eje Cafetero, compuesto por los departamentos de Quindío, Caldas y Risaralda. La actividad de cultivo de café se encuentra ubicada en
- los planes de reforestación productiva.
  - el sector secundario de la economía.
  - las actividades de consumo y distribución.
  - el sector primario de la economía.

