



**COLEGIO NACIONES UNIDAS I.E.D**  
**CUARTO TALLER DE PREPARACION MATEMATICAS SEGUNDO PERIODO**  
**GRADO PRIMERO - DOCENTES: JOHANNA COLMENARES – MARISOL YASNÓ- VIANEY GAMBOA**

Lee con atención y resuelve, RECUERDA tienes que elegir entre SUMAS o RESTAS. Señala la respuesta correcta.

1. Ayer compre 30 cromos de animales. Hoy mi hermano me regaló 24 cromos.

¿Cuántos cromos tengo en total?

- a. 30 cromos.
- b. 24 cromos.
- c. 54 cromos.
- d. 42 cromos.

2. Mi tía me compró un paquete con 56 pegatinas. Yo he usado 21. ¿Cuántas pegatinas me quedan?

- a. 56 pegatinas.
- b. 21 pegatinas.
- c. 35 pegatinas.
- d. 42 pegatinas.

Realiza las operaciones, recuerda señalar la respuesta correcta.

3.  $15 + 18 =$

Decenas	Unidades

- a. 18
- b. 46
- c. 33
- d. 56

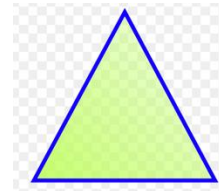
4.  $35 - 28 =$

Decenas	Unidades

- a. 35
- b. 28
- c. 47
- d. 7

Escribe el número de lados y esquinas que tiene que tiene cada figura

5.















- a. 3 lados 4 esquinas.
- b. 3 lados 3 esquinas.
- c. 4 lados 4 esquinas.
- d. 5 lados 6 esquinas.

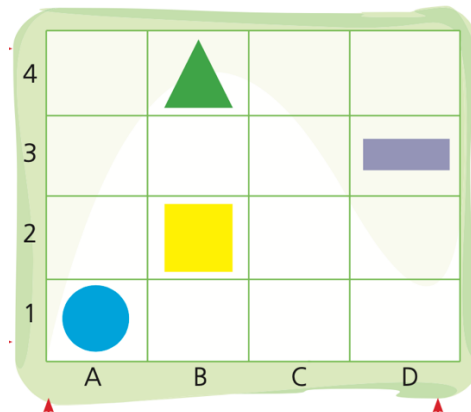
6.



COLEGIO NACIONES UNIDAS I.E.D  
CUARTO TALLER DE PREPARACION MATEMATICAS SEGUNDO PERIODO  
GRADO PRIMERO - DOCENTES: JOHANNA COLMENARES – MARISOL YASNÓ- VIANEY GAMBOA



- 3 lados 4 esquinas.
  - 3 lados 3 esquinas.
  - 4 lados 4 esquinas.
  - 5 lados 6 esquinas
7. Identifica el sólido geométrico. Toda su superficie es curva.
- Cono 
  - Cubo 
  - Cilindro 
  - Esfera 
8. Identifica el sólido geométrico. Tiene dos bases circulares iguales.
- Cono 
  - Cubo 
  - Cilindro 
  - Esfera 
9. Identifica el sólido geométrico. Tiene una base circular y una superficie lateral curva.
- Cono 
  - Cubo 
  - Cilindro 
  - Esfera 



- A1.
  - B2.
  - B4.
  - D3.
10. Observa la imagen y responde. El cuadrado está ubicado en:

**COLEGIO NACIONES UNIDAS I.E.D**  
**CUARTO TALLER DE PREPARACION MATEMATICAS SEGUNDO PERIODO**  
**GRADO PRIMERO - DOCENTES: JOHANNA COLMENARES – MARISOL YASNÓ- VIANEY GAMBOA**

