

COLEGIO NACIONES UNIDAS I.E.D.
PRUEBAS POR COMPETENCIAS
JARDIN 2018
2º TRIMESTRE

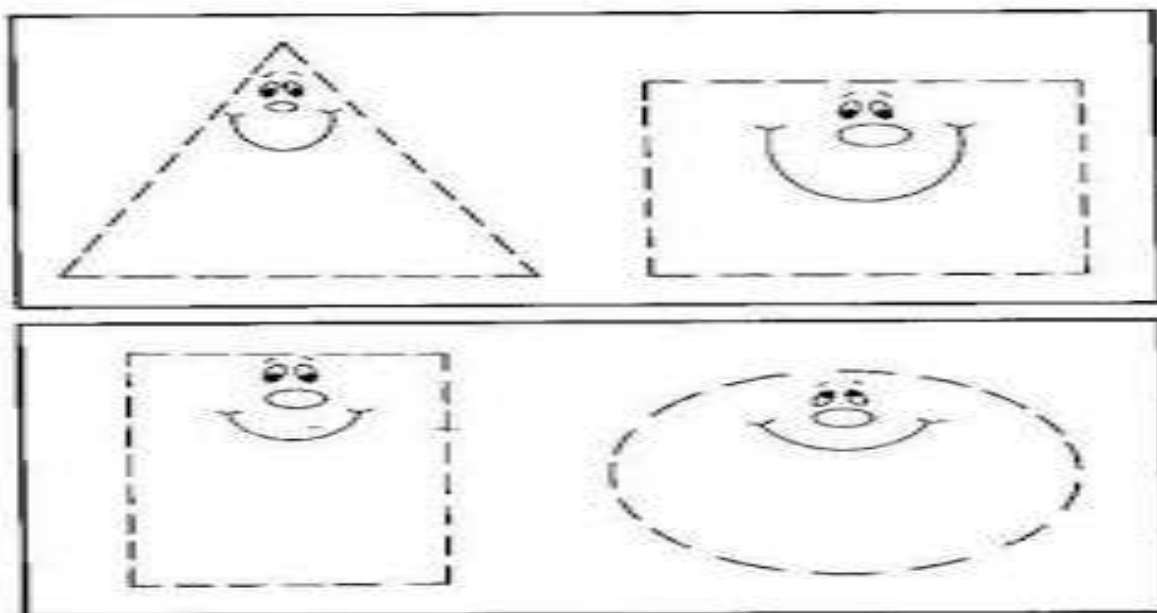


Nombre: _____ Fecha: _____

1. Cuenta y retiene los números

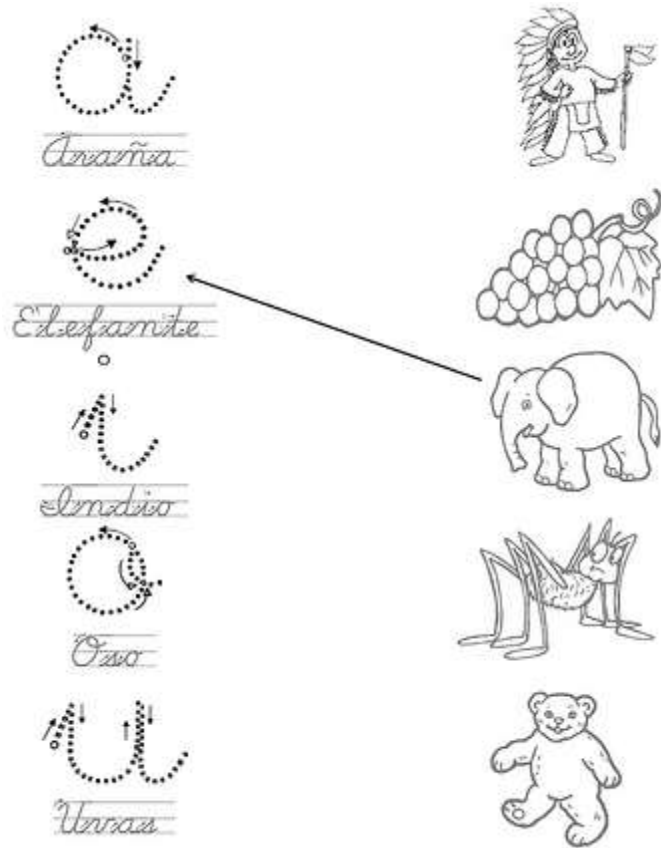
| | | | | | |
|-----------|---|---|---|---|---|
| ● | 1 | 1 | 1 | 1 | 1 |
| ● ● | 2 | 2 | 2 | 2 | 2 |
| ● ● ● | 3 | 3 | 3 | 3 | 3 |
| ● ● ● ● | 4 | 4 | 4 | 4 | 4 |
| ● ● ● ● ● | 5 | 5 | 5 | 5 | 5 |

2. Reconoce cada figura. Une las líneas y colorea triángulo rojo, cuadrado verde, rectángulo amarillo y círculo azul.



3.

3. Une y colorea



4. Colorea con azul los cuadritos que tienen la a A y colorea, de amarillo la e, de rojo la i, de verde la o y de anaranjado la u. colorea el dibujo del niño y el avión con diversos colores y sin salirse de las márgenes

Nombre _____Fecha _____

- Colorea con azul los cuadritos que tienen las letras a y A.
- Colorea el dibujo.

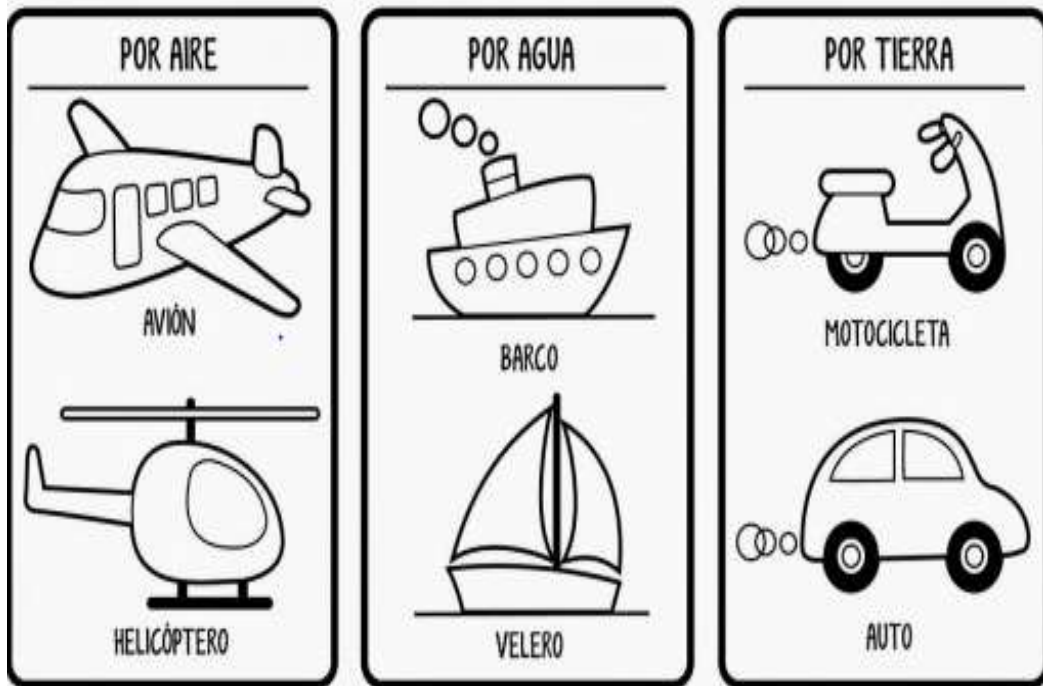
<http://fichasparapreescolar.blogspot.mx>
 se autoriza la reproducción sólo para uso didáctico sin fines de lucro.

5. Completa




6. Colorea los medios de transporte

PR



7. OBSERVA LAS IMÁGENES Y SIGUE LA INSTRUCCIÓN DE LA MAESTRA PARA REALIZAR LA ACTIVIDAD.

- A) Colorea los animales que tienen cuatro patas.
- B) Encierra en un círculo los animales que nos brindan alimento para el hombre
- C) Colorea de café los que sirven de mascotas.



PRUEBA SEGUNDO TRIMESTRE

GRADO: TRANSICIÓN 4

ESTUDIANTE:

1. Escribe los números del 1 al 30

2. Realiza las sumas y restas

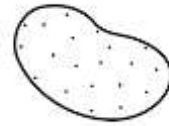
$$4 + 5 = \quad 9 + 3 = \quad 10 + 5 = \quad 8 + 8 = \quad 7 + 6 = \quad 9 + 1 = \quad 10 + 9 = \quad 8 + 5 =$$

$$5 - 2 = \quad 6 - 4 = \quad 9 - 5 = \quad 4 - 2 = \quad 3 - 3 = \quad 8 - 3 = \quad 5 - 4 = \quad 9 - 8 =$$

3. Dibuja un conjunto vacío, lleno y unitario

4. Escribe el nombre de cada imagen





5. Dictado

6. Escribe tu nombre


7. Dibuja la planta con sus partes

8. Dibuja un medio de transporte y un medio de comunicación

9. Dibuja en cada nube un animal salvaje, doméstico y acuático



10. Explica la imagen



1. Dibuja las figuras geométricas que recuerdas



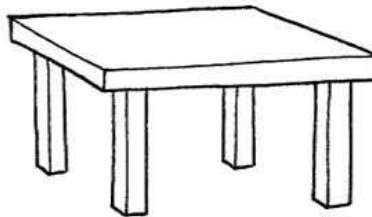
TALLER 2 TRIMESTRE GRADOS DE TRANSICION : COMUNICATIVA

NOMBRE: _____

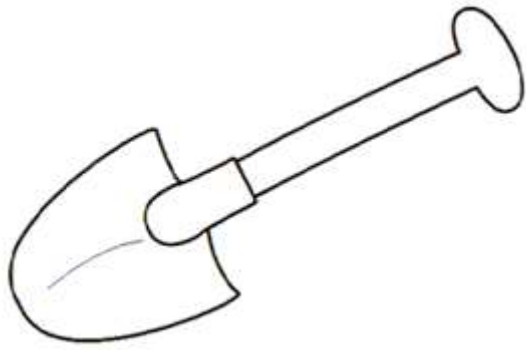
1. Observo la imagen coloco el nombre y coloreo.















1. Leo las palabras dibujo y coloreo:

Memo

Papá

Piso

Misa

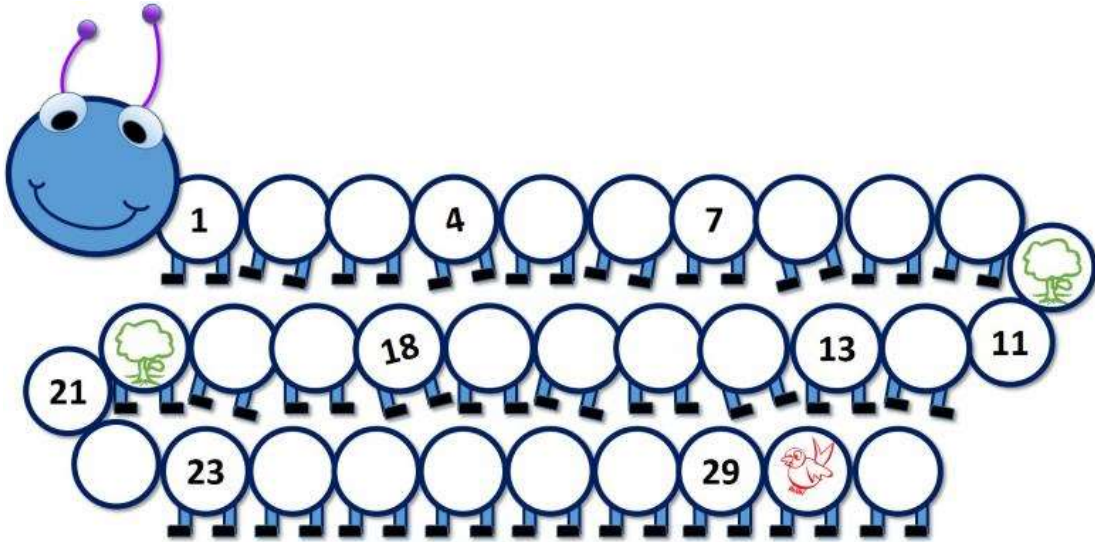
Pelo

Loma







Lima







NOMBRE:

1. Completo y coloreo la imagen:



2. Realizo las sumas que a continuación encuentras.

| | | | | |
|--|---|--|---|---|
|  □ | + |  □ | = | □ |
|  □ | + |  □ | = | □ |
|  □ | + |  □ | = | □ |

| | | | | |
|--|---|--|---|---|
|  □ | + |  □ | = | □ |
|  □ | + |  □ | = | □ |
|  □ | + |  □ | = | □ |

3. Escribo los números de manera descendente (30 al 0).

30-29-

Piso

Puma

Loma

JARDIN

Se realizará una actividad practica en donde pondré a prueba el recortado de las figuras geométricas y en donde se darán instrucciones de la aplicación de los colores primarios y secundarios.

TRANSICION

Se realizara una prueba práctica en donde recorten en revistas los colores primarios y secundarios, también en figuras tendrán que combinar los colores primarios para sacar los colores secundarios.