



Taller No. 1

Eje: lógico matemático

Fecha: 24 de Agosto del 2018


1. Escribe los números que van antes y después según corresponda:


	20	
	17	
	9	
	32	
	4	


	7	
	23	
	14	
	38	
	5	

2. Realiza las siguientes sumas


 4
+ 2

 3
+ 4

 5
+ 4



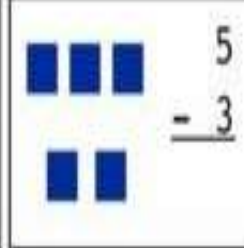


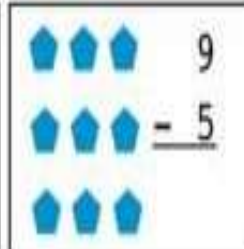
 4
+ 5

 4
+ 3

 3
+ 3



3. Realiza las siguientes restas

 $\begin{array}{r} 9 \\ - 2 \\ \hline \end{array}$	 $\begin{array}{r} 1 \\ - 1 \\ \hline \end{array}$	 $\begin{array}{r} 5 \\ - 3 \\ \hline \end{array}$
 $\begin{array}{r} 8 \\ - 4 \\ \hline \end{array}$	 $\begin{array}{r} 7 \\ - 2 \\ \hline \end{array}$	 $\begin{array}{r} 9 \\ - 5 \\ \hline \end{array}$

4. completa la serie numérica de dos en dos

2			8	
	14			20
		26		
32			38	

5. realiza dictado de 10 números del 0 al 30





Taller No. 2

Eje: lógico matemático

Fecha: 7 de Septiembre del 2018




1. Completa con $<$, $>$ según corresponda

	8	<input type="text"/>	10	
	9	<input type="text"/>	4	
	6	<input type="text"/>	7	
	5	<input type="text"/>	10	
	4	<input type="text"/>	4	
	9	<input type="text"/>	7	



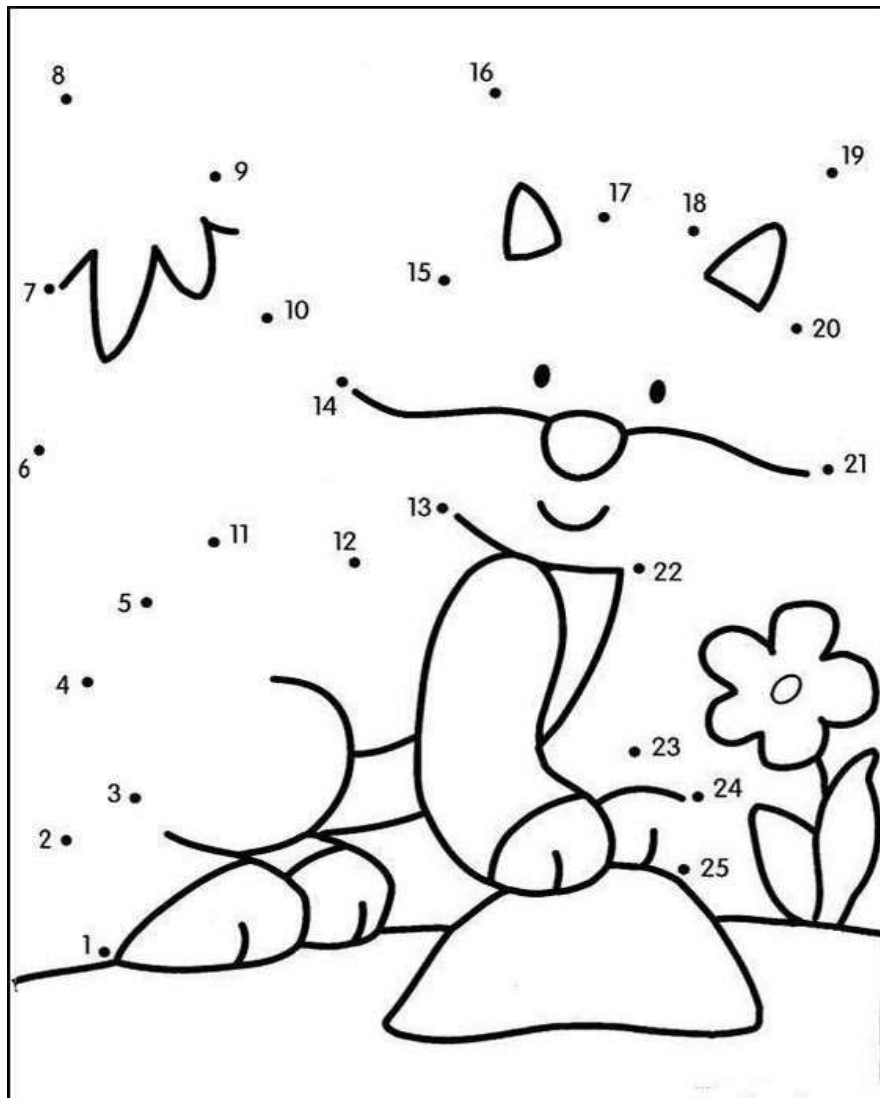
2. Dibuja una decena de balones

3. Colorea una docena de flores





4. Une los puntos siguiendo la secuencia, descubre la imagen y colorea.



5. Escribe el nombre de los siguientes números

6	
1	
7	



Taller No. 3

Eje: lógico matemático

Fecha: 21 de Septiembre del 2018

1. Observa y encierra las diferencias

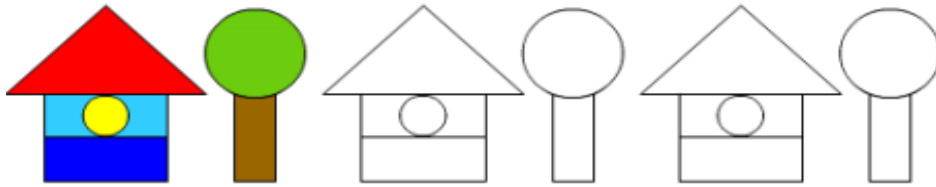


2. Completa la secuencia numérica

1		3					8
9				13			16
17		19					24
25				29			32
33		35					40
41				45			48
				49	50		




3. Colorea siguiendo la secuencia



4. Dibuja un largo y uno corto

5. Dibuja un conjunto de frutas





Taller No. 4

Eje: lógico matemático

Fecha: 05 de Octubre del 2018

1. Observa la imagen, luego colorea un cuadro por cada animal.

Below the animal illustrations are four vertical grids, each with five empty boxes for coloring. Below each grid is a small icon of the animal it represents: a frog, a lion, a pig, and a cat.

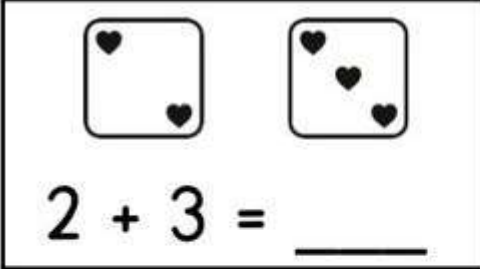
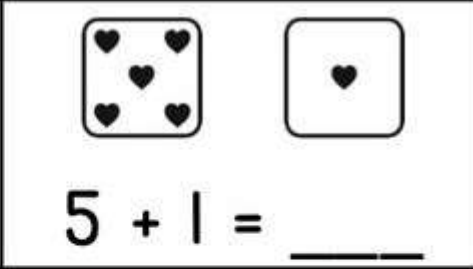
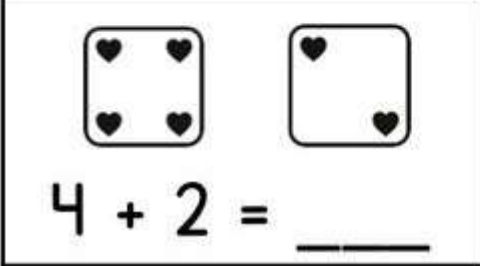
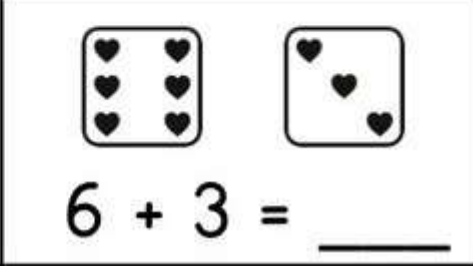
2. Escribe el número que va antes y después de ...

	6
	23
	35
	41
	16

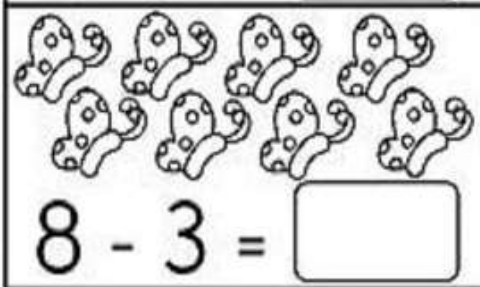
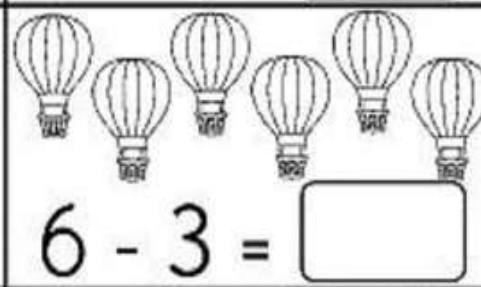
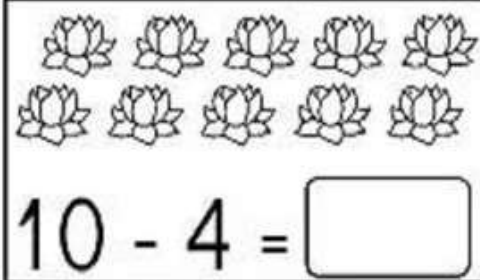

8	
27	
33	
48	
15	



3. Resuelve las siguientes sumas

 $2 + 3 = \underline{\quad}$	 $5 + 1 = \underline{\quad}$
 $4 + 2 = \underline{\quad}$	 $6 + 3 = \underline{\quad}$

4. Resuelve las siguientes restas

 $8 - 3 = \boxed{\quad}$	 $6 - 3 = \boxed{\quad}$
 $10 - 4 = \boxed{\quad}$	 $8 - 4 = \boxed{\quad}$

5. Realiza dictado de 10 números entre 0 y 50




Taller No. 5

Eje: lógico matemático

Fecha: 19 de Octubre del 2018

1. Resuelve las siguientes sumas y restas, luego colorea siguiendo la indicación

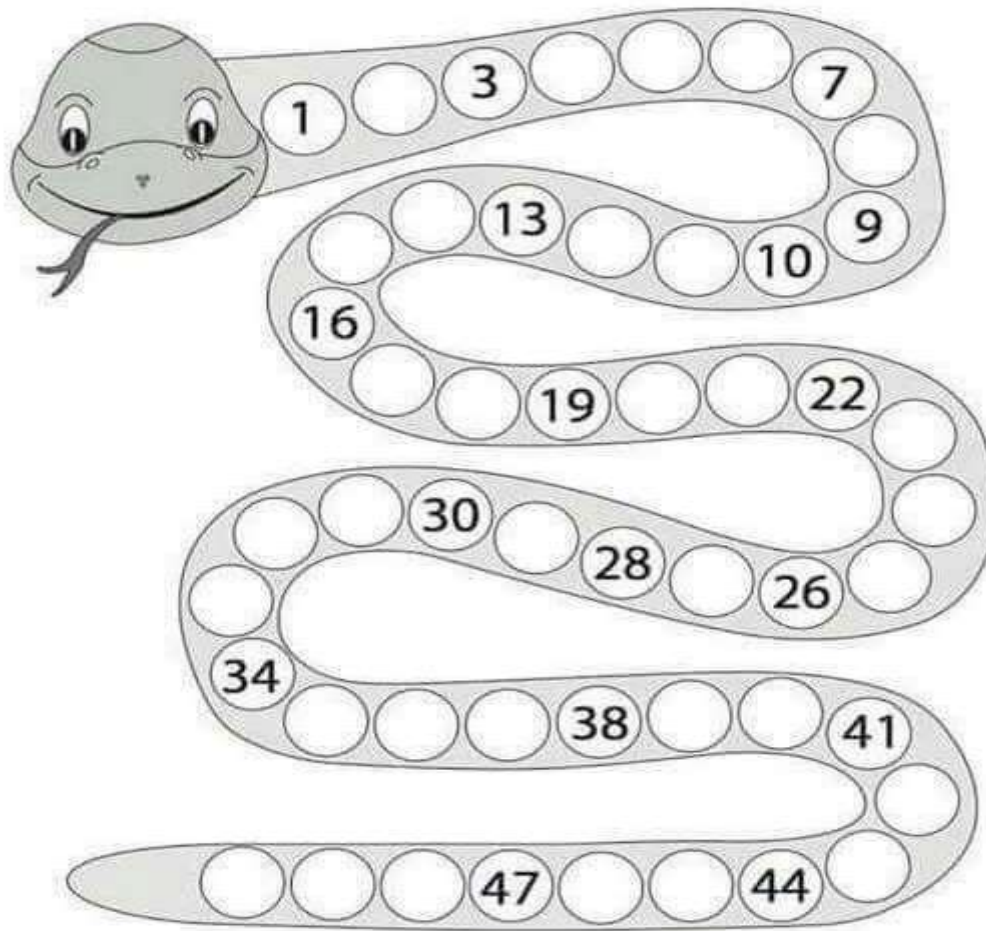


2. Escribe < ,> ò = según corresponda


2		2
15		23
35		8
50		50
27		48



3. Completa la secuencia



4. Completa las imágenes



5. Dibuja las figuras geométricas que recuerdas.