



Taller No. 1

Eje Temático: lógico matemático
Fecha: 24 de Agosto del 2018


1. Escribe los números que van antes y después según corresponda:


	20	
	17	
	9	
	32	
	4	


	7	
	23	
	14	
	38	
	5	

2. Realiza las siguientes sumas



$$\begin{array}{r} 4 \\ +2 \\ \hline \square \end{array}$$


$$\begin{array}{r} 3 \\ +4 \\ \hline \square \end{array}$$


$$\begin{array}{r} 5 \\ +4 \\ \hline \square \end{array}$$



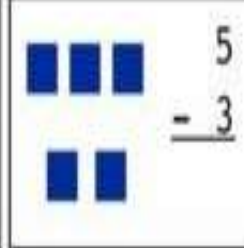


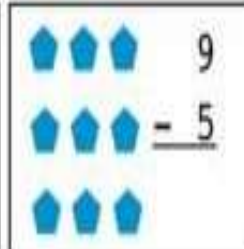

$$\begin{array}{r} 4 \\ +5 \\ \hline \square \end{array}$$


$$\begin{array}{r} 4 \\ +3 \\ \hline \square \end{array}$$


$$\begin{array}{r} 3 \\ +3 \\ \hline \square \end{array}$$



3. Realiza las siguientes restas

 $\begin{array}{r} 9 \\ - 2 \\ \hline \end{array}$	 $\begin{array}{r} 1 \\ - 1 \\ \hline \end{array}$	 $\begin{array}{r} 5 \\ - 3 \\ \hline \end{array}$
 $\begin{array}{r} 8 \\ - 4 \\ \hline \end{array}$	 $\begin{array}{r} 7 \\ - 2 \\ \hline \end{array}$	 $\begin{array}{r} 9 \\ - 5 \\ \hline \end{array}$

4. Dibuja una acción que realizas de día y otra de noche

5. realiza dictado de 10 números que se encuentren entre el 0 y el 30





Taller No. 2

Eje Temático: lógico matemático

Fecha: 7 de Septiembre del 2018




1. Completa con $<$, $>$ según corresponda

	8	<input type="text"/>	10	
	9	<input type="text"/>	4	
	6	<input type="text"/>	7	
	5	<input type="text"/>	10	
	4	<input type="text"/>	4	
	9	<input type="text"/>	7	



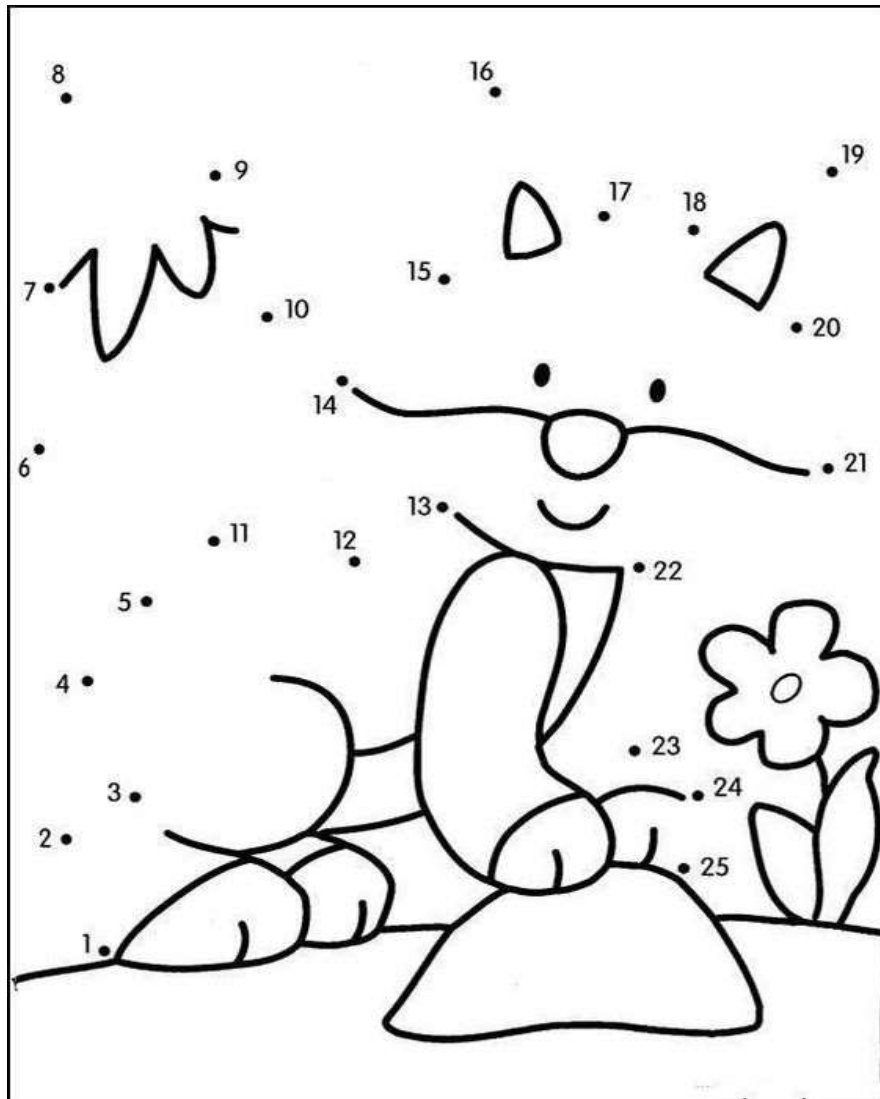
2. Dibuja una decena de balones

3. Colorea una docena de flores





4. Une los puntos siguiendo la secuencia, descubre la imagen y colorea.



5. completa la serie numérica de dos en dos

2			8	
	14			20
		26		
32			38	



Taller No. 3

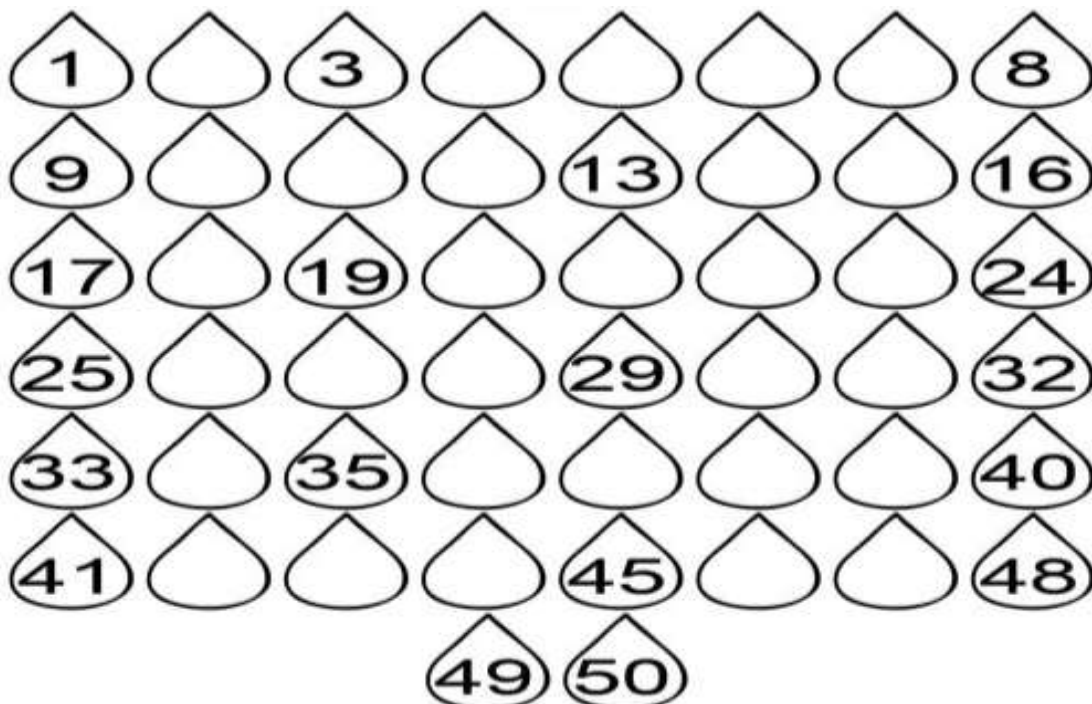
Eje Temático: lógico matemático

Fecha: 21 de Septiembre del 2018

1. Observa y encierra las diferencias

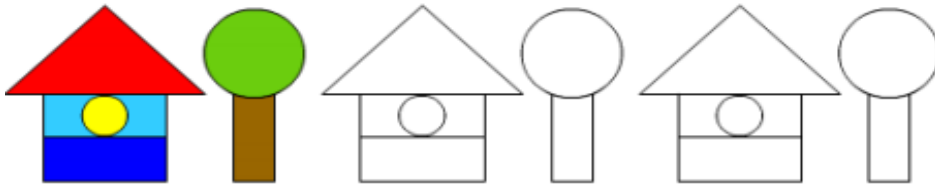


2. Completa la secuencia numérica






3. Colorea siguiendo la secuencia



4. Dibuja un largo y uno corto

5. Dibuja un conjunto de frutas





Taller No. 4

Eje Temático: lógico matemática
 Fecha: 05 de Octubre del 2018

1. Observa la imagen, luego colorea un cuadro por cada animal.

2. Escribe el número que va antes y después de ...

	6
	23
	35
	41
	16

8	
27	
33	
48	
15	



3. Resuelve las siguientes sumas

 $2 + 3 = \underline{\quad}$	 $5 + 1 = \underline{\quad}$
 $4 + 2 = \underline{\quad}$	 $6 + 3 = \underline{\quad}$

4. Resuelve las siguientes restas

 $8 - 3 = \square$	 $6 - 3 = \square$
 $10 - 4 = \square$	 $8 - 4 = \square$

5. Realiza dictado de 10 números que se encuentren de 0 al 50




Taller No. 5

Eje Temático: lógico matemático

Fecha: 26 de Octubre del 2018

1. Resuelve las siguientes sumas y restas, luego colorea siguiendo la indicación

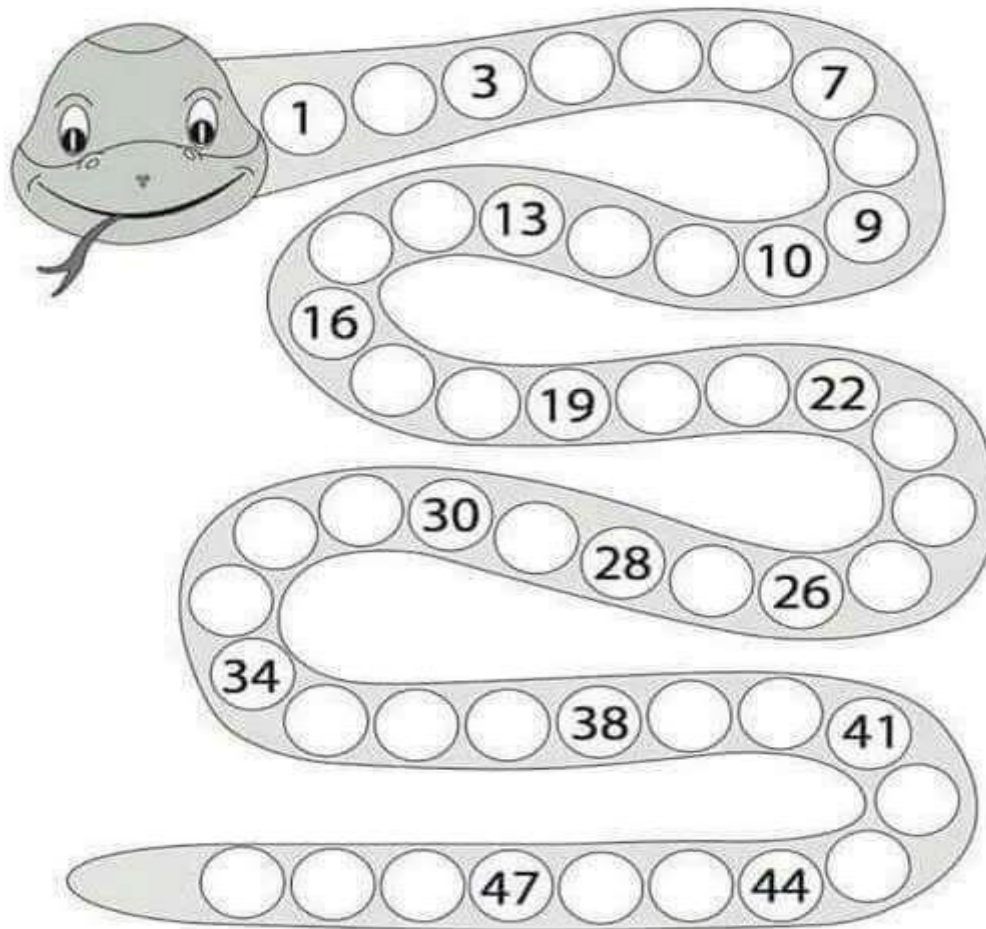


2. Escribe $<$, $>$ or $=$ según corresponda


2		2
15		23
35		8
50		50
27		48



3. Completa la secuencia



4. Completa las imágenes



5. Dibuja las figuras geométricas que recuerdas.